

# पूर्व उच्च प्राथमिक शिष्यवृत्ति परीक्षा (कक्षा 5 वीं), फरवरी 2024

बैठक क्र.

--	--	--	--	--	--	--	--	--	--

संच



0 3 0 2

पेपर क्र. - II

वेळ : 02:00 ते 03:30

माध्यम : हिन्दी



एकूण गुण : 150

तृतीय भाषा व बुद्धिमत्ता चाचणी

पृष्ठ : 32

प्रश्नपत्र हल करने से पहले कृपया नीचे दिये गए निर्देशों को ध्यानपूर्वक पढ़ें :

- (1) इस प्रश्नपत्र के दो भाग हैं। जिसमें से भाग - I में तृतीय भाषा विषय से संबंधित 1 से 25 और भाग II में बुद्धिमत्ता चाचणी विषय से संबंधित 26 से 75 प्रश्न पूछे गए हैं। सभी 75 प्रश्न हल करना अनिवार्य है।
- (2) प्रत्येक प्रश्न 2 अंक के लिए है।
- (3) प्रश्नपत्र हल करने के लिए कुल 90 मिनट का समय दिया जाएगा।
- (4) उत्तर देने के लिए स्वतंत्र उत्तरपत्रिका दी जाएगी। प्रत्येक प्रश्न क्रमांक के सामने चार विकल्प के लिए क्रमानुसार दीर्घवृत्त दिए गए हैं। जिनमें से सही उत्तर - विकल्प के दीर्घवृत्त को नीचे दिए गए उदाहरणानुसार भरें।  
उदा. प्रश्न क्र. 6 का सही उत्तर विकल्प क्र. 2 है, तो आगे दिए अनुसार उत्तर भरें।  
प्रश्न क्र. 6  ①  ②  ③  ④
- (5) नीचे दिये गए उदाहरण के अनुसार अंकित किए गए उत्तर स्वीकार्य नहीं किए जायेंगे। इस प्रकार अंकित किए गए प्रश्न के उत्तर को 'शून्य' अंक दिए जायेंगे।  ②  ③  ④
- (6) प्रत्येक प्रश्न के लिए एक से अधिक दीर्घवृत्त में उत्तर अंकित किये गए, चिन्हांकित किये गए उत्तर का मूल्यांकन नहीं किया जाएगा।
- (7) एक बार अंकित किए गए उत्तर दोबारा बदले नहीं जा सकते।
- (8) विकल्प के उत्तर अंकित करने के लिए केवल काले और नीले रंग के बॉलपेन का ही इस्तेमाल करें। पेन्सिल से अंकित उत्तर स्वीकार्य नहीं किए जायेंगे।
- (9) प्रश्नपत्र के प्रत्येक पृष्ठ के नीचे और अंतिम पृष्ठ पर कच्चे काम (Rough work) के लिए खाली जगह है, वहीं कच्चा काम (Rough work) करें।
- (10) परीक्षा की अवधि मर्यादित होने के कारण यदि किसी प्रश्न का उत्तर आपको नहीं पता हो तो आगे के प्रश्न हल करें। अंत में समय बचने पर रह गए प्रश्नों के लिए पुनः प्रयास करें।
- (11) किसी प्रश्न में त्रुटि/गलती परिलक्षित होने पर पर्यवेक्षक या परीक्षा केंद्र संचालक से विचार विमर्श ना करें।
- (12) प्रश्न में त्रुटि/गलती/इसके संबंध में निवेदन विद्यालय अथवा अभिभावकों द्वारा समूह शिक्षणाधिकारी या शिक्षणअधिकारी के पास लिखित रूप में न भेजकर संबंधित विद्यालय के लॉगिन से ऑनलाइन पद्धति से ही भेजें।
- (13) त्रुटि/गलती/इसके संबंध में निवेदन ऑनलाइन पद्धति से भेजने की अवधि परीक्षा परिषद के निर्देश स्थान से अंतरिम (अस्थायी) उत्तर सूची के प्रेषित होने से लेकर 10 (दस) दिन तक रहेगी।
- (14) टंकण दोष या अन्य कारण से प्रश्न गलत परिलक्षित होने पर विशेषज्ञ समिति के निर्णयानुसार योग्य कार्यवाही की जायेगी।
- (15) मूल माध्यम के साथ अंग्रेजी भाषा में भी प्रश्नपत्र दिया गया है। मूल माध्यम के संदिग्ध प्रश्नों के लिए अंग्रेजी प्रश्न देखें।

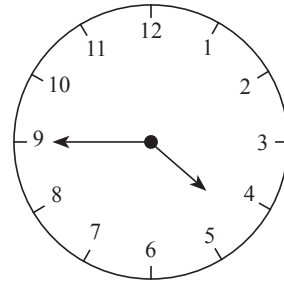
SECTION - I

ENGLISH

01. Choose the incorrect options.

The clock shows the time \_\_\_\_\_.

- (1) quarter to 5
- (2) three quarters past 4
- (3) two quarters past 5
- (4) 45 minutes past 4



02. Choose the proper punctuation mark in the end of the sentence.

'That's an excellent idea

- (1) ?
- (2) ,
- (3) .
- (4) !

03. Select the correct option.

We should cut our hair \_\_\_\_\_.

- (1) hardly
- (2) regularly
- (3) terribly
- (4) recently

Instructions for Q. 04 and Q. 05

**Fresh Fruits**  
**Vegetables**  
**From** Daisy's shop

HEALTH IS WEALTH! LOW PRICE

---

▶ **healthy**    ▶ **juicy**    ▶ **tasty**

---

**Fruits and Vegetables**   
59, Mint Street,  
Trichy

SPACE FOR ROUGH WORK

04. Fill in the blank with correct option.

This advertisement is based on \_\_\_\_\_.

- (1) fruits and meat (2) vegan and diary  
(3) fruits and smoothie (4) vegetables and fruits

05. Select the motto for the advertisement.

- (1) Health is Wealth (2) Truth is Gold  
(3) Green and clean Earth (4) Never stop learning

06. Choose the correct alternative for the given sentence.

‘hooray! teacher, we want to play kho-kho’.

- (1) Capital ‘H’ for hooray  
(2) Capital ‘T’ for teacher  
(3) Capital ‘W’ for we  
(4) Capital ‘H’ for hooray and Capital ‘T’ for teacher

07. Choose the correct pair from the given alternatives.

- (1) A flock of bees (2) A flock of geese  
(3) A bundle of children (4) A swarm of dogs

08. Pick out the missing colour of a ‘rainbow.’

Red, Orange, Yellow, Green, Blue, \_\_\_\_\_ and violet.

- (1) Indigo (2) White  
(3) Pink (4) Purple

**SPACE FOR ROUGH WORK**

09. Choose the correct contracted form of the underlined words in the given sentence.

'I am not interested.'

- (1) aren't (2) ain't  
(3) am't (4) arent'

10. Fill in the blank.

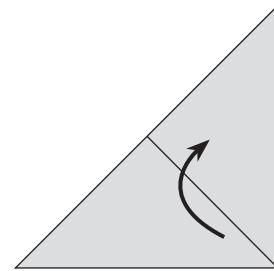
'France is \_\_\_\_\_ European country.'

- (1) an (2) the  
(3) a (4) no article

11. Observe the diagram carefully and find the answer from the alternatives.

Fold the paper in the \_\_\_\_\_ direction.

- (1) South  
(2) Upward  
(3) South West  
(4) Downward



12. Which of the following is a permission?

- (1) You are welcome (2) I drink water  
(3) Please come in (4) Don't make noise

**SPACE FOR ROUGH WORK**

**Instructions for Q. 13 to Q. 15 :**

**Read the passage carefully and answer the following questions.**

A dictionary is a must for a student. You can begin with simple, attractive dictionaries and then learn to use the more difficult ones later. So, the next time you come across a difficult word, don't fret. Just look it up in a dictionary.

**13.** What is a must for a student?

- (1) A diary (2) A muster  
(3) A library (4) A dictionary

**14.** Find the opposite word for 'Easy'.

- (1) Weak (2) Just  
(3) Difficult (4) Across

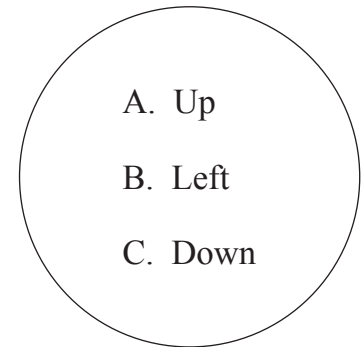
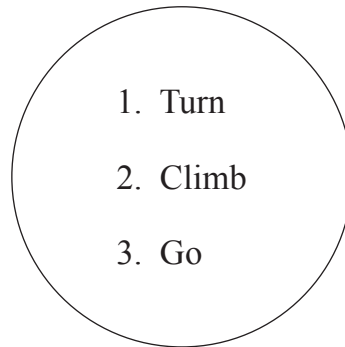
**15.** Fill in the blank with correct alternative.

One can begin with \_\_\_\_\_ , \_\_\_\_\_ dictionaries.

- (1) simple , attractive (2) simple , difficult  
(3) must , next (4) more , fret

**16.** Match the correct instructions from the given alternatives.

- (1) 1-A, 2-B, 3-C  
(2) 1-C, 2-A, 3-B  
(3) 1-B, 2-A, 3-C  
(4) 1-C, 2-B, 3-A



**SPACE FOR ROUGH WORK**

17. Fill in the blanks.

Joseph has a brand \_\_\_\_\_ bicycle.

- (1) knew (2) new  
(3) now (4) no

18. Select the rhyming word for the correct action word from the given table.

dig	bib
tar	fin

- (1) far (2) rib  
(3) fig (4) bin

19. Fill in the blank.

\_\_\_\_\_, no ! My mobile is ringing.

- (1) Alas (2) Oh  
(3) Brave (4) Ouch

20. Choose the correct ordinal number for 'December'.

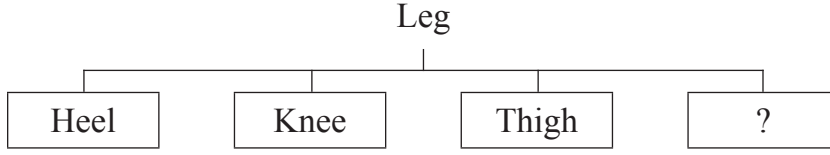
- (1) Twelfth (2) Twelvth  
(3) Twelfth (4) Twelve

21. Find the shape of dice used in 'Ludo' game from the given alternatives.

- (1) cuboid (2) cube  
(3) sphere (4) cone

**SPACE FOR ROUGH WORK**

22. Look at the chart and find the correct option.



- (1) Fist (2) Stomach  
(3) Jaw (4) Toes

23. How will Salim greet Vandana on her birthday?

- (1) Happy birthday! (2) Congratulations!  
(3) Best of luck! (4) Rest in peace!

24. Solve the riddle.

I can help you to heat  
and cook different types of food.

Who am I?

- (1) Microwave (2) Blender  
(3) Refrigerator (4) Chimney

25. Arrange the numbers to make meaningful word.

N	I	O	D	A	R	S	U
1	2	3	4	5	6	7	8

- (1) 42153687 (2) 42137586  
(3) 76853124 (4) 68753421

**SPACE FOR ROUGH WORK**







A	B	C	D	E	F	G	H	I	J	K	L	M	N	O	P	Q	R	S	T	U	V	W	X	Y
---	---	---	---	---	---	---	---	---	---	---	---	---	---	---	---	---	---	---	---	---	---	---	---	---

29. Cool : hot :: strong : ?

- (1) brave                      (2) thin                      (3) week                      (4) weak

30. Shyamchi Aai : Sane Guruji :: Wings of fire : ?

- (1) Jayant Naraliker                      (2) Dr. A.P.J. Abdul Kalam  
(3) Pranav Mukherji                      (4) Dr. Homi Bhabha

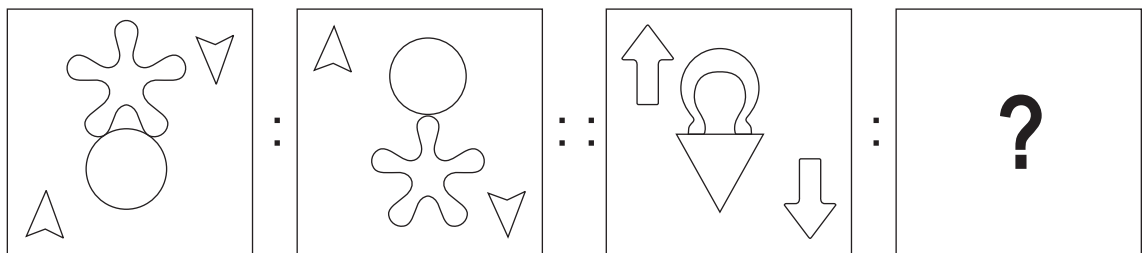
31. 37 : 40 :: 25 : ?

- (1) 19                      (2) 27                      (3) 21                      (4) 30

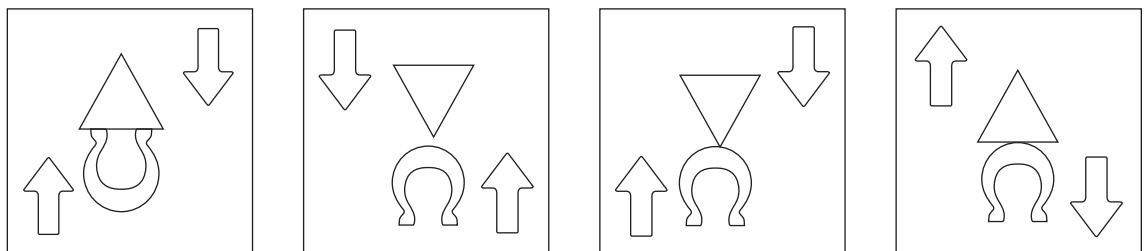
32. 14 : 15 :: 32 : ?

- (1) 35                      (2) 42                      (3) 31                      (4) 18

33. Question Figures:



Answer Figures:



(1)

(2)

(3)

(4)

SPACE FOR ROUGH WORK

29. कडवा : मीठा :: शीतल : ?

- (1) उष्णता (2) प्रखरता (3) सौम्य (4) उष्ण

30. श्यामची आई : साने गुरूजी :: अग्निपंख : ?

- (1) जयंत नारळीकर (2) डॉ. ए.पी.जे. अब्दुल कलाम  
(3) प्रणव मुखर्जी (4) डॉ. होमी भाभा

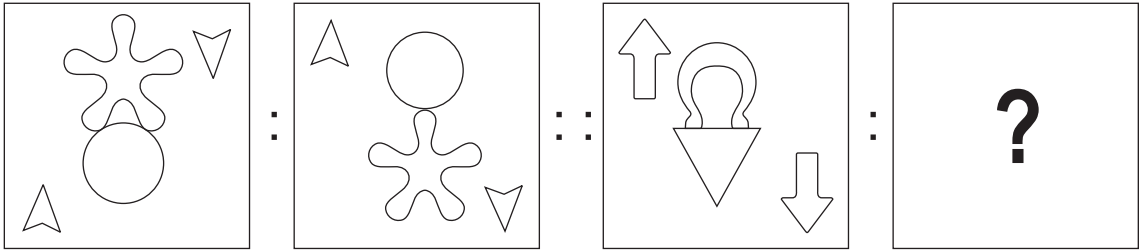
31. 37 : 40 :: 25 : ?

- (1) 19 (2) 27 (3) 21 (4) 30

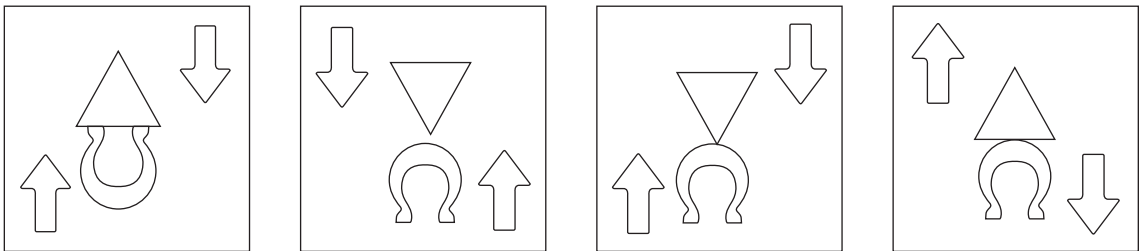
32. 14 : 15 :: 32 : ?

- (1) 35 (2) 42 (3) 31 (4) 18

33. प्रश्नाकृतीया



उत्तर आकृतीया



(1)

(2)

(3)

(4)

रफ कार्य हेतू स्थान

A	B	C	D	E	F	G	H	I	J	K	L	M	N	O	P	Q	R	S	T	U	V	W	X	Y
---	---	---	---	---	---	---	---	---	---	---	---	---	---	---	---	---	---	---	---	---	---	---	---	---

34. John, who is born on 5<sup>th</sup> January 2001 Friday, is 100 days elder to Shanaya then on which day was Shanaya's first birthday?

- (1) Thursday      (2) Tuesday      (3) Wednesday      (4) Monday

35. Select the number to replace the question mark in the given grid.

75	7	25
18	33	63
?	52	12

- (1) 46                      (2) 42                      (3) 35                      (4) 48

36. In a certain code language if 25 = 532, 57 = 725 and 34 = 413 then how will you write 14 in the same code language?

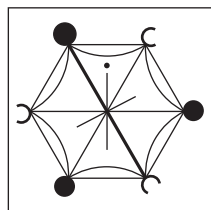
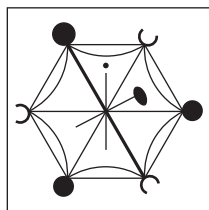
- (1) 314                      (2) 451                      (3) 431                      (4) 514

**Q. 37 and Q. 38 Direction :**

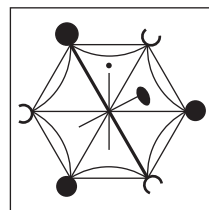
Identify the figure which exactly matches with the question figure from the four alternatives given below.

37. **Question Figure :**

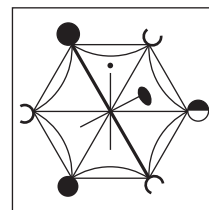
**Answer Figures :**



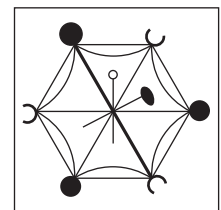
(1)



(2)



(3)



(4)

**SPACE FOR ROUGH WORK**

A	B	C	D	E	F	G	H	I	J	K	L	M	N	O	P	Q	R	S	T	U	V	W	X	Y
---	---	---	---	---	---	---	---	---	---	---	---	---	---	---	---	---	---	---	---	---	---	---	---	---

34. 5 जनवरी 2001 के दिन शुक्रवार को जॉन का जन्म हुआ। वह शनाया से 100 दिनों से बड़ा है, तो शनाया के पहले जन्मदिन को कौन-सा वार होगा?

- (1) गुरुवार (2) मंगलवार (3) बुधवार (4) सोमवार

35. निम्नलिखित चौखट में प्रश्नचिह्न के स्थान पर कौन-सी संख्या आएगी?

75	7	25
18	33	63
?	52	12

- (1) 46 (2) 42 (3) 35 (4) 48

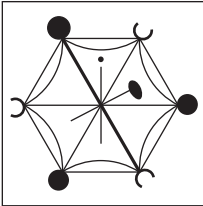
36. एक सांकेतिक भाषा में  $25 = 532$ ,  $57 = 725$  और  $34 = 413$  ऐसा लिखते हैं, तो उसी सांकेतिक भाषा में 14 यह संख्या कैसे लिखोगे?

- (1) 314 (2) 451 (3) 431 (4) 514

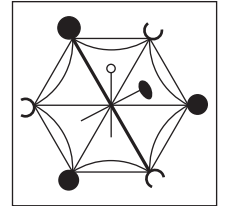
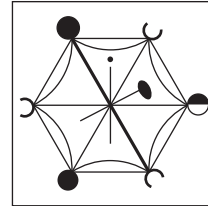
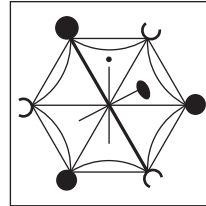
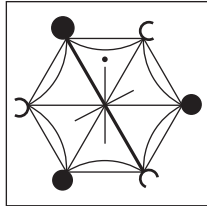
प्रश्न क्र. 37 और 38 के लिए सूचना -

निम्न प्रश्नाकृति से पूर्णतः मेल खानेवाली आकृति पर्याय में से ढूँढो।

37. प्रश्नाकृति:



उत्तर आकृतिया:



(1)


(2)

(3)


(4)

रफ कार्य हेतु स्थान


38. Question Figure:




Answer Figures:




(1)



(2)

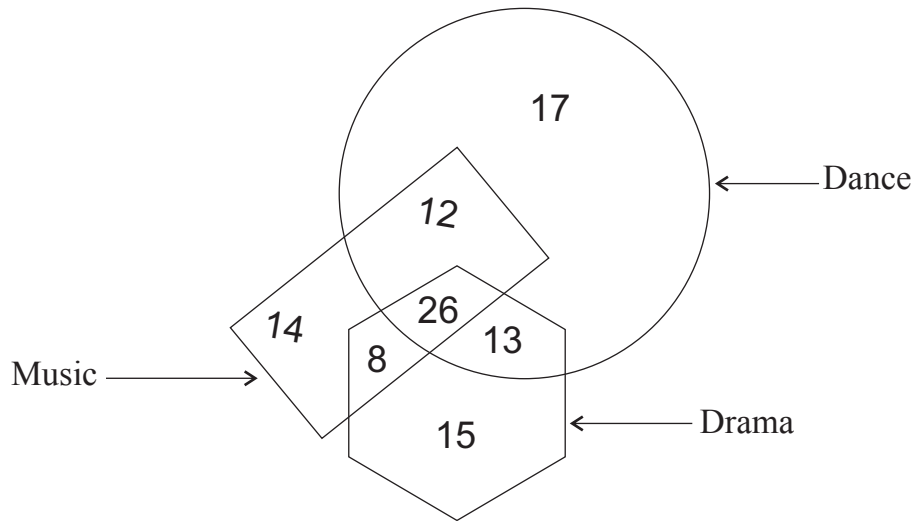


(3)



(4)

39. In the given Venn diagram numbers indicate the students in the school who like the activities like Dance, Drama and Music. How many students like at least two activities?



(1) 59

(2) 33

(3) 46

(4) 20

Q. 40 to Q. 44 Direction:

In each of the following questions three terms are given with some common relation. So their group is formed. Select the correct term from the alternatives given which has the same common feature of the given group.

40. Storm, Tsunami, Flood

(1) Rain


(2) Accident

(3) Famine


(4) Ocean

**SPACE FOR ROUGH WORK**


38. प्रश्नाकृति :




उत्तर आकृतीया :




(1)



(2)

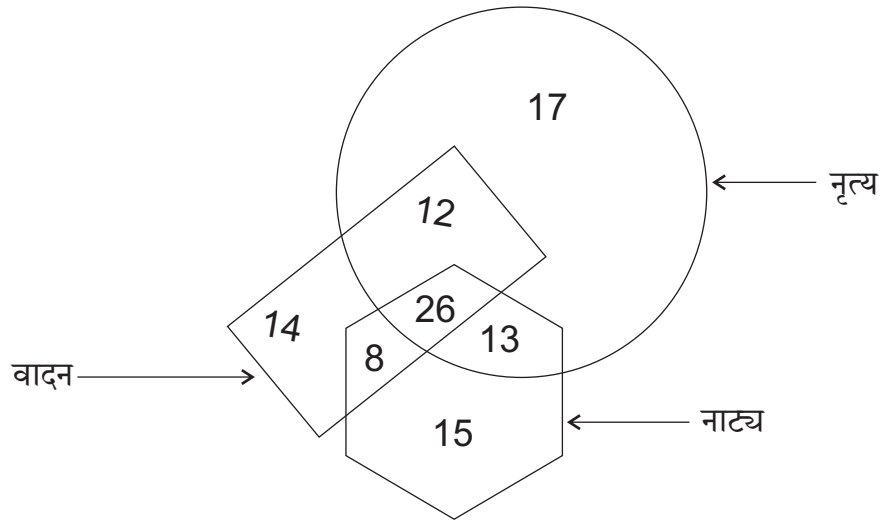


(3)



(4)

39. उपरोक्त आकृति में एक विद्यालय के नृत्य, नाट्य और वादन इस क्षेत्र में रूचि होनेवालों की संख्या दर्शायी गई है। यह देखकर कम से कम दो क्षेत्रों में रूचि होनेवालों की संख्या कितनी है?



(1) 59

(2) 33

(3) 46

(4) 20

प्रश्न क्र. 40 से 44 के लिए सूचना -

निम्नलिखित प्रश्नों में दिए गए तीन पदों का एक विशिष्ट विशेषतानुसार एक समूह तैयार होता है। वह विशेषता ध्यान में लेकर समूह से मेल खानेवाला पद पर्यायों में से ढूँढ़कर लिखो।

40. बवंडर, त्सुनामी, महाबाढ़

(1) बारिश

(2) अपघात

(3) अकाल

(4) महासागर

रफ कार्य हेतु स्थान

A	B	C	D	E	F	G	H	I	J	K	L	M	N	O	P	Q	R	S	T	U	V	W	X	Y
---	---	---	---	---	---	---	---	---	---	---	---	---	---	---	---	---	---	---	---	---	---	---	---	---

41. Potter, Carpenter, Doctor

- (1) Wood                      (2) Medicine                      (3) Study                      (4) Tailor

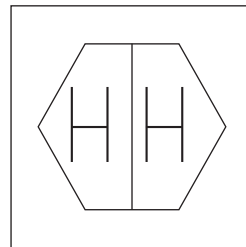
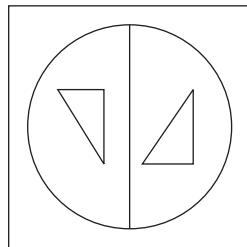
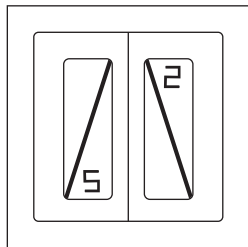
42. 9 (31) 5 , 7 (17) 4 , 8 (13) 3

- (1) 8 (26) 5                      (2) 7 (23) 5                      (3) 7 (17) 3                      (4) 6 (20) 2

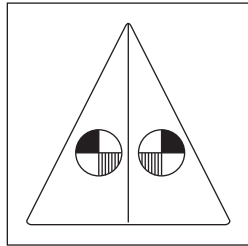
43.  $\frac{18}{42}$  ,  $\frac{27}{63}$  ,  $\frac{36}{84}$

- (1)  $\frac{24}{72}$                       (2)  $\frac{51}{119}$                       (3)  $\frac{30}{60}$                       (4)  $\frac{72}{120}$

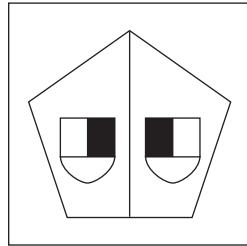
44. Question Figures:



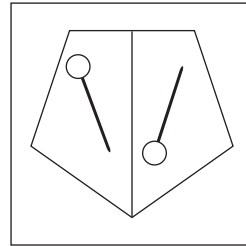
Answer Figures:



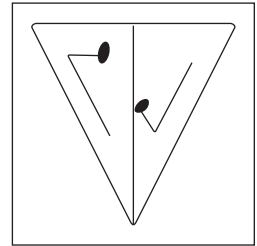
(1)



(2)



(3)



(4)

45. In a certain code language if  $[3, 4] \left[ \frac{2}{5} \right] = 26$ ,  $[1, 3] \left[ \frac{2}{7} \right] = 23$  and  $[2, 5] \left[ \frac{6}{7} \right] = 47$  then in the same code language how will you write  $[2, 7] \left[ \frac{5}{6} \right]$ ?

- (1) 52                      (2) 20                      (3) 42                      (4) 62

SPACE FOR ROUGH WORK



A	B	C	D	E	F	G	H	I	J	K	L	M	N	O	P	Q	R	S	T	U	V	W	X	Y
---	---	---	---	---	---	---	---	---	---	---	---	---	---	---	---	---	---	---	---	---	---	---	---	---

41. मार्च, अक्टूबर, जनवरी

- (1) जून (2) मई (3) फरवरी (4) नवंबर


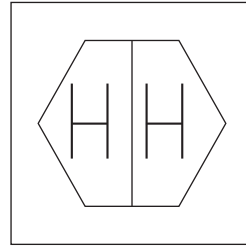
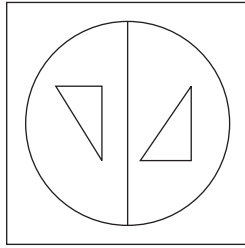
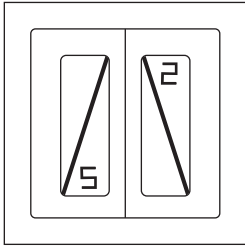
42. 9 (31) 5 , 7 (17) 4 , 8 (13) 3

- (1) 8 (26) 5 (2) 7 (23) 5 (3) 7 (17) 3 (4) 6 (20) 2

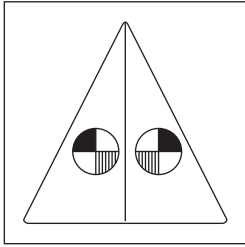
43.  $\frac{18}{42}$  ,  $\frac{27}{63}$  ,  $\frac{36}{84}$

- (1)  $\frac{24}{72}$  (2)  $\frac{51}{119}$  (3)  $\frac{30}{60}$  (4)  $\frac{72}{120}$

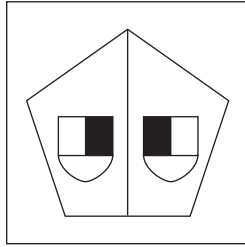
44. प्रश्नाकृतीया



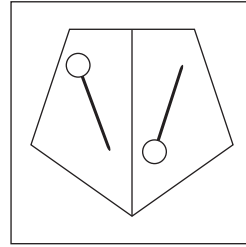
उत्तर आकृतीया



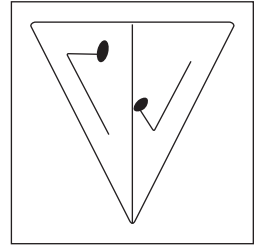
(1)



(2)



(3)



(4)

45. एक सांकेतिक भाषा में  $[3, 4] \left[ \frac{2}{5} \right] = 26$ ,  $[1, 3] \left[ \frac{2}{7} \right] = 23$  और  $[2, 5] \left[ \frac{6}{7} \right] = 47$  इस प्रकार लिखते हैं, तो उसी सांकेतिक भाषा में  $[2, 7] \left[ \frac{5}{6} \right]$  कैसे लिखोगे?

- (1) 52 (2) 20 (3) 42 (4) 62

रफ कार्य हेतु स्थान

A	B	C	D	E	F	G	H	I	J	K	L	M	N	O	P	Q	R	S	T	U	V	W	X	Y
---	---	---	---	---	---	---	---	---	---	---	---	---	---	---	---	---	---	---	---	---	---	---	---	---

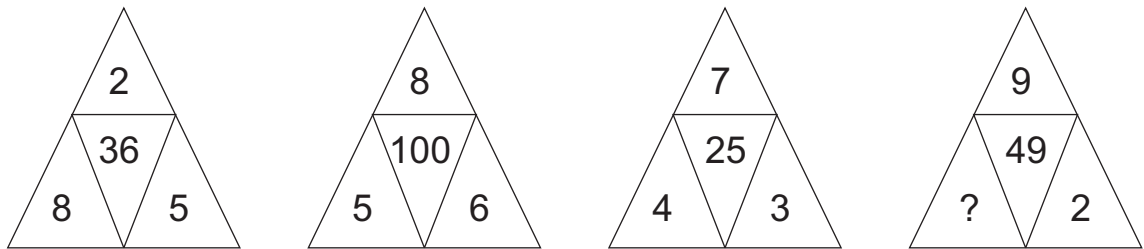
46. Statement A : Sourabh is 17 years old and he is three years younger than Seema.  
Statement B : Sharayu is younger than Sharad, her age is 21 years.  
Select the correct conclusion of statement A and B from the given alternatives.

- (1) Sharayu is younger than Sourabh by 4 years.
- (2) Sharad is younger than Seema.
- (3) Seema is 14 years old.
- (4) Sourabh is youngest in all of them.

47. In a certain code language if COW = 274, CAT = 684 and WET = 825 then in the same code language how will you write GOAT? [The order of letters and numbers may not be one to one.]

- (1) 4768
- (2) 7186
- (3) 8765
- (4) 1785

48. In the following question select the correct alternative to replace the question mark.



- (1) 5
- (2) 4
- (3) 3
- (4) 1

49. Observe the table of alphabets and signs and find the word opposite to 'Good'.

A	B	C	D	E	F	G
Δ	□	⊗	+	●		\

- (1) □ Δ +
- (2) ⊗ Δ +
- (3) ● □ +
- (4) □ ● ⊗

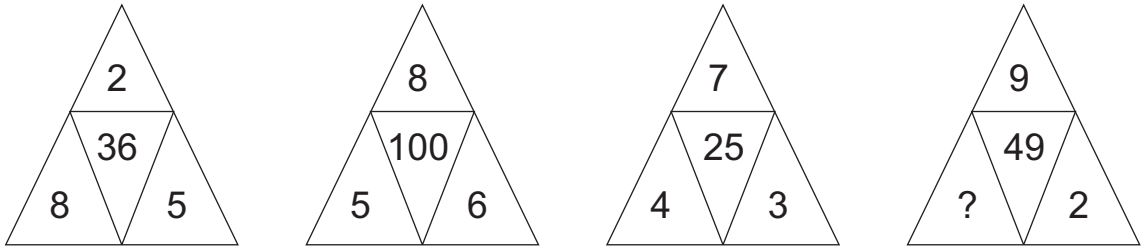
SPACE FOR ROUGH WORK

A	B	C	D	E	F	G	H	I	J	K	L	M	N	O	P	Q	R	S	T	U	V	W	X	Y
---	---	---	---	---	---	---	---	---	---	---	---	---	---	---	---	---	---	---	---	---	---	---	---	---

46. विधान : (अ) सौरभ 17 साल का है और सीमा से तीन साल से छोटा है।  
 (ब) शरदु शरदु से छोटी है और उसकी आयु 21 वर्ष है।

ऊपर दिए गए विधान पढ़ो और निम्नलिखित में से कौन-सा सही अनुमान है वह निश्चित करो।

- (1) शरदु सौरभ से चार साल से छोटी है।  
 (2) शरदु सीमा से छोटा है।  
 (3) सीमा की आयु 14 वर्ष है।  
 (4) सबसे कम आयुवाला सौरभ है।
47. एक सांकेतिक भाषा में COW = 274, CAT = 684 और WET = 825 इस प्रकार लिखते हैं, तो उसी सांकेतिक भाषा में GOAT यह शब्द कैसे लिखोगे? (सूचना: अक्षर और अंकों का क्रम समान होगा ही यह नहीं कह सकते।)
- (1) 4768                      (2) 7186                      (3) 8765                      (4) 1785
48. निम्नलिखित प्रश्न में प्रश्नचिह्न के स्थान पर कौन-सी संख्या आएगी?



- (1) 5                              (2) 4                              (3) 3                              (4) 1

- 49.

प	ए	ढ	त	ब	ड	ल	आ '।'	ए 'ः'	अं 'ः'	इ '।'
+	-	●	△	○	▼	□	÷	≠	@	×

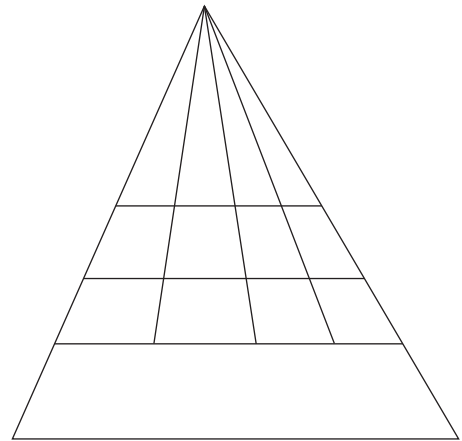
उपर्युक्त तालिका के अक्षर और चिह्नों का उपयोग करके 'आकाश' इस शब्द का विरुद्धार्थी शब्द कैसे लिखोगे?

- (1) + ÷ △ ÷ □                      (2) - ● □ ÷  
 (3) - △ ▼ ×                              (4) - ▼ △ ÷

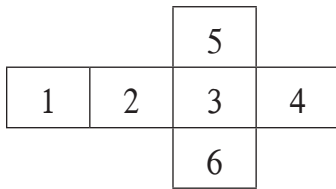
रफ कार्य हेतु स्थान

50. How many quadrilaterals are there in the given figure.

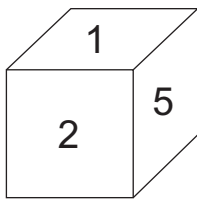
- (1) 60
- (2) 30
- (3) 33
- (4) 32



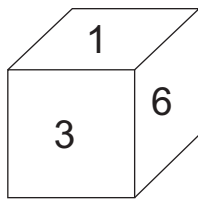
51.



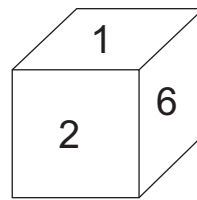
Observe the given figure. When figure is folded on lines then which of the following cube is not formed?



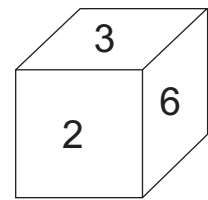
(1)



(2)

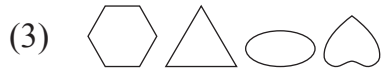


(3)



(4)

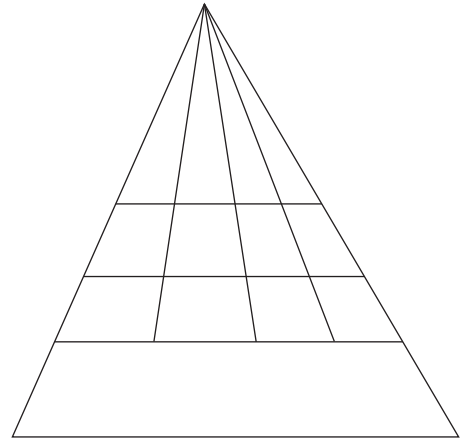
52. In the given series, select the correct alternative to replace the question mark.



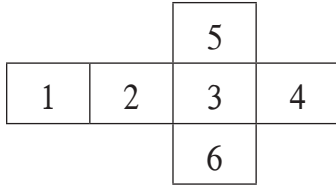
SPACE FOR ROUGH WORK

50. दी गई आकृति में चतुर्भुजों की संख्या कितनी है?

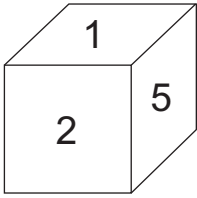
- (1) 60
- (2) 30
- (3) 33
- (4) 32



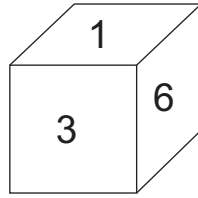
51.



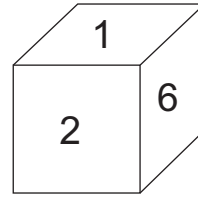
उपर्युक्त आकृति उसके किनारों पर मोड़कर घन तैयार किया गया तो निम्न में से कौन-सी घनाकृति तैयार नहीं होगी?



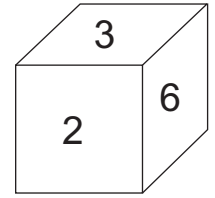
(1)



(2)

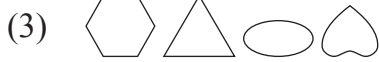


(3)



(4)

52. निम्न चिह्नमालिका में प्रश्नचिह्न के स्थान पर आनेवाला समूह पर्याय में से ढूँढो।



रफ कार्य हेतु स्थान

A	B	C	D	E	F	G	H	I	J	K	L	M	N	O	P	Q	R	S	T	U	V	W	X	Y
---	---	---	---	---	---	---	---	---	---	---	---	---	---	---	---	---	---	---	---	---	---	---	---	---

53. Identify the pattern of numbers in the series and select the wrong term.

3, 1, 6, 7, 10, 26, 15, 63, 21

- (1) 1                      (2) 7                      (3) 15                      (4) 21


54. Varsha was facing the setting sun, she turned at  $135^\circ$  twice to her right side and went straight in her house then in which direction is the door facing?

- (1) South                      (2) South-East                      (3) North                      (4) North-East


**Q. 55 and Q. 56 Direction :**

In each question a problem figure is held vertical above water surface. Identify its water reflection and select the correct alternative.


55. **Question Figure :**



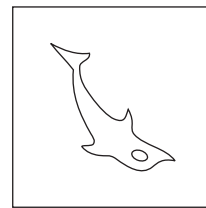
**Answer Figures :**



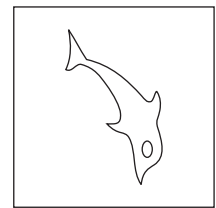
(1)



(2)



(3)



(4)

56. **Question Figure :**



**Answer Figures :**



(1)



(2)



(3)



(4)

57. Which of the following is the correct example of homophone?

- (1) Seek - sick    (2) Ship - sheep    (3) Two - to    (4) Ate - at

**SPACE FOR ROUGH WORK**

A	B	C	D	E	F	G	H	I	J	K	L	M	N	O	P	Q	R	S	T	U	V	W	X	Y
---	---	---	---	---	---	---	---	---	---	---	---	---	---	---	---	---	---	---	---	---	---	---	---	---

53. निम्न संख्यामालिका में संख्याओंका एक विशिष्ट क्रम है। वह क्रम पहचानकर गलत पद पहचानो।

3, 1, 6, 7, 10, 26, 15, 63, 21

(1) 1 (2) 7 (3) 15 (4) 21


54. ढलते हुए सूरज को वंदन करनेवाली वर्षा 135° के कोण से दो बार दाहिनी ओर मूड़कर सीधे घर में प्रवेश करती है, तो घर का प्रवेशद्वार कौन-सी दिशा में होगा?

(1) दक्षिण (2) अग्नेय (3) उत्तर (4) ईशान्य


प्रश्न क्र. 55 और 56 के लिए सूचना -

निम्न प्रश्नाकृतियों का जलप्रतिबिंब पर्यायी उत्तर - आकृतियों में से ढूँढो।


55. प्रश्नाकृती :




उत्तर आकृतीया :



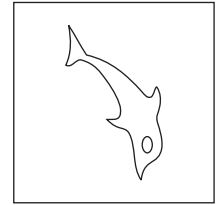
(1)



(2)



(3)



(4)

56. प्रश्नाकृती :



उत्तर आकृतीया :



(1)



(2)



(3)



(4)

57. निम्नलिखित में से कौन-सा शब्द संयुक्ताक्षर शब्द नहीं है?

(1) अक्षर (2) ज्ञानेश्वर (3) मृग (4) श्रेयस

रफ कार्य हेतु स्थान

A	B	C	D	E	F	G	H	I	J	K	L	M	N	O	P	Q	R	S	T	U	V	W	X	Y
---	---	---	---	---	---	---	---	---	---	---	---	---	---	---	---	---	---	---	---	---	---	---	---	---

58. Read the poem carefully. Find out how many more or less three letter words than the 7 letter words are there in the poem.

‘Twinkle Twinkle little star,  
how I wonder what you are?  
up above the world so high,  
like a diamond in the sky.

- (1) More by 3    (2) Less by 3    (3) Less by 2    (4) More by 4

59.

ABCDE	FGHIJ	KLMNO	PQRST	UVWXY
-------	-------	-------	-------	-------

In the above given alphabet series which of the given pair of alphabets indicate the difference  $\frac{4}{3}$  times the difference between letter ‘H’ and letter ‘R’.

- (1) D - N            (2) K - W            (3) M - X            (4) E - R

60. In the given number series the digits of every number are interchanged to form a new series. What is the addition of the prime numbers in the new series?

13	,	95	,	17	,	53	,	37	,	76	,	19	,	41
----	---	----	---	----	---	----	---	----	---	----	---	----	---	----

- (1) 180            (2) 301            (3) 300            (4) 181

**Q. 61 to Q. 65 Direction :**

Select the odd term.

61. (1) House            (2) Planet            (3) Cottage            (4) Home

62. (1) 54            (2) 78            (3) 66            (4) 36

63. (1) 192            (2) 312            (3) 732            (4) 726

SPACE FOR ROUGH WORK



A	B	C	D	E	F	G	H	I	J	K	L	M	N	O	P	Q	R	S	T	U	V	W	X	Y
---	---	---	---	---	---	---	---	---	---	---	---	---	---	---	---	---	---	---	---	---	---	---	---	---

58. निम्नलिखित काव्यपंक्ति में अ-कारांत शब्दों की संख्या ई-कारांत शब्दों से कितनी कम या अधिक है?

भारत की हम भावी आशा  
पूरी करें देश अभिलाषा  
दुखियों के आँगन में  
आओ आशा दीप जलायें।।

- (1) 2 से अधिक (2) 3 से कम (3) 2 से कम (4) 3 से अधिक

59.

ABCDE	FGHIJ	KLMNO	PQRST	UVWXY
-------	-------	-------	-------	-------

उपर्युक्त अक्षर मालिका में 'H' और 'R' इन अक्षरों के बीच में होनेवाले अक्षरों की संख्या से  $\frac{4}{3}$  गुणा अक्षर निम्नलिखित में से कौन-सी जोड़ी में होंगे?

- (1) D - N (2) K - W (3) M - X (4) E - R

60. निम्नलिखित संख्यामालिका में हर संख्या के अंकों के स्थान आपस में बदलकर तैयार होनेवाली संख्याओं में से अभाज्य संख्याओं का जोड़ कितना होगा?

13	,	95	,	17	,	53	,	37	,	76	,	19	,	41
----	---	----	---	----	---	----	---	----	---	----	---	----	---	----

- (1) 180 (2) 301 (3) 300 (4) 181

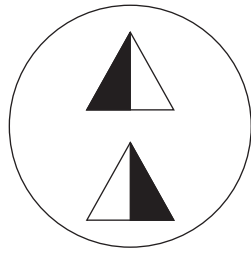
प्रश्न 61 से 65 के लिए सूचना -

समूह में न बैठनेवाला पर्याय चुनो।

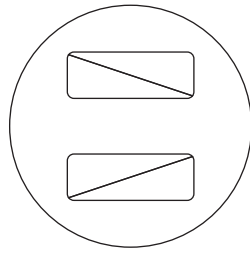
61. (1) धाम (2) ग्रह (3) सदन (4) गृह  
62. (1) 54 (2) 78 (3) 66 (4) 36  
63. (1) 192 (2) 312 (3) 732 (4) 726

रफ कार्य हेतु स्थान

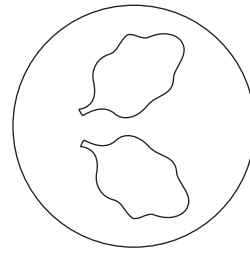
64.



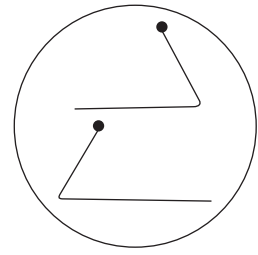
(1)



(2)

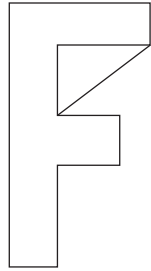


(3)

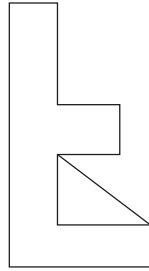


(4)

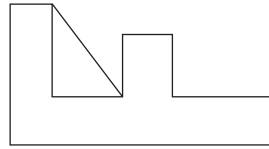
65.



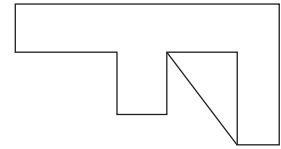
(1)



(2)



(3)



(4)

66.

Rahim's today's age is twice of Ram's today's age and  $\frac{4}{3}$  times John's today's age. If three years ago Ram's age was 9 years then what is the sum of today's age of all three of them?

(1) 60

(2) 51

(3) 54

(4) 58

67.

In a certain code language if Tiger is called as Lion, Lion is called as Shekaru, Shekaru is called as Deer, Deer is called as Elephant then who of the following is called as Maharashtra's state animal?

(1) Tiger


(2) Lion

(3) Shekaru

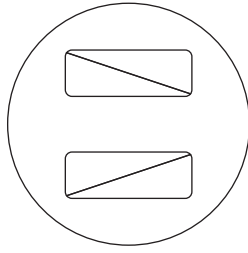
(4) Deer

**SPACE FOR ROUGH WORK**

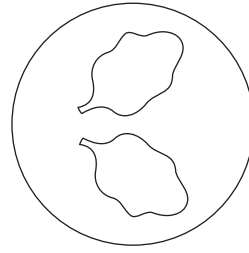
64.



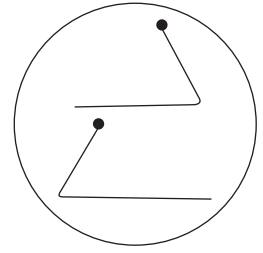
(1)



(2)

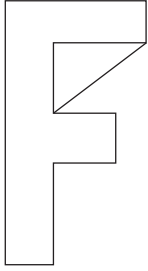


(3)

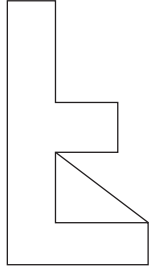


(4)

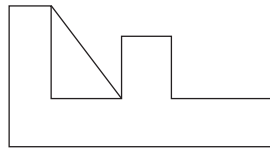
65.



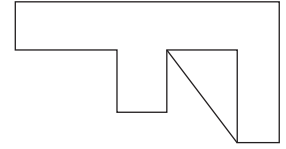
(1)



(2)



(3)



(4)

66. रहीम की वर्तमान आयु राम की वर्तमान आयु से दुगुनी होकर जॉन की वर्तमान आयु के  $\frac{4}{3}$  गुणी है। राम तीन वर्ष पहले 9 वर्ष का हो तो तीनों की वर्तमान आयु का जोड़ कितना होगा?

(1) 60

(2) 51

(3) 54

(4) 58

67. यदि बाघ को सिंह कहें, सिंह को शेकरू कहें, शेकरू को हिरन कहें, हिरन को हाथी कहे, तो महाराष्ट्र का राज्यप्राणी कौन-सा?

(1) बाघ

(2) सिंह

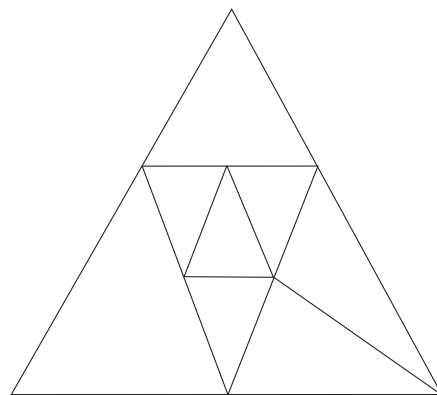
(3) शेकरू

(4) हिरन

रफ कार्य हेतु स्थान

68. In the adjacent figure how many triangles are there?

- (1) 12
- (2) 11
- (3) 8
- (4) 9



**Q. 69 to Q. 71 Direction :**

Identify the sequence in the given terms / figures and select the correct alternative to replace the question mark.

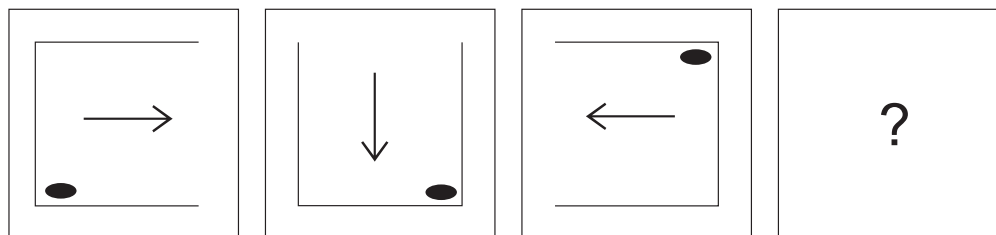
69. 841, ? , 361, 289, 169, 121

- (1) 729
- (2) 441
- (3) 625
- (4) 529

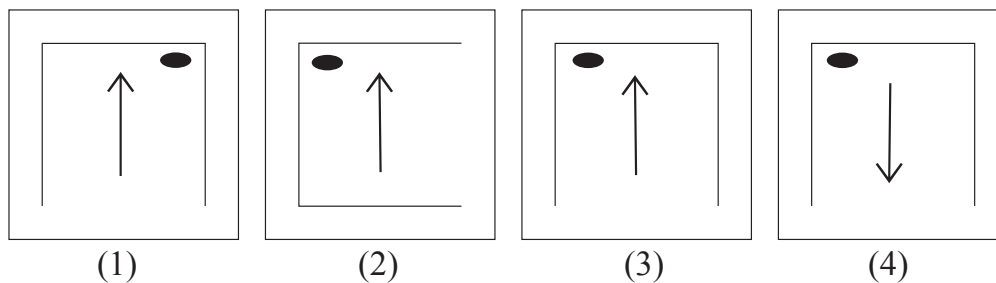
70. 91, 82, 74, 67, ? , 55, 50, 45

- (1) 61
- (2) 58
- (3) 62
- (4) 57

71. **Question Figures :**



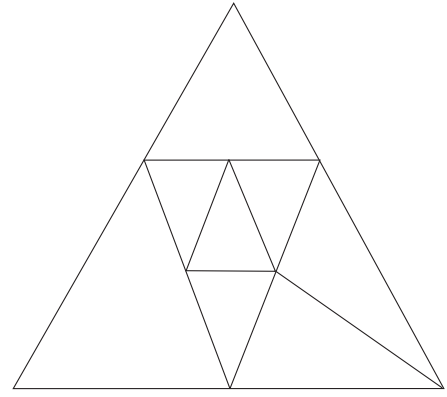
**Answer Figures :**



SPACE FOR ROUGH WORK

68. निम्न आकृति में कुल कितने त्रिभुज हैं?

- (1) 12  
(2) 11  
(3) 8  
(4) 9



प्रश्न क्र. 69 से 71 के लिए सूचना -

निम्नलिखित पदों का क्रम ध्यान में लेकर प्रश्नचिह्न के स्थान पर आनेवाला पद पर्याय में से ढूँढ़कर लिखो।

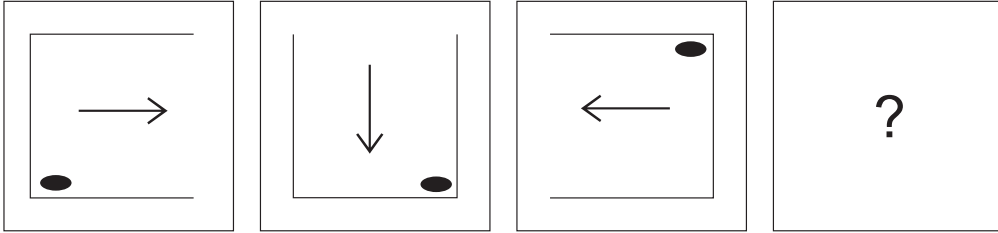
69. 841, ?, 361, 289, 169, 121

- (1) 729                      (2) 441                      (3) 625                      (4) 529

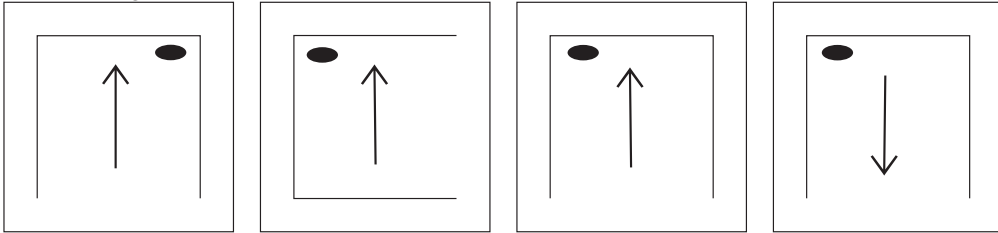
70. 91, 82, 74, 67, ?, 55, 50, 45

- (1) 61                      (2) 58                      (3) 62                      (4) 57

71. प्रश्न आकृतीया



उत्तर आकृतीया



(1)

(2)

(3)

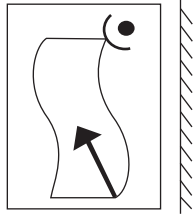
(4)

रफ कार्य हेतु स्थान

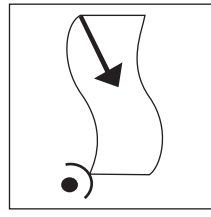
**Q. 72 and Q. 73 Direction :**

Find out the mirror image of each of the following question figure from the alternatives given.


**72. Question Figure :**



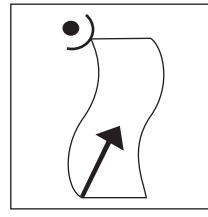
**Answer Figures :**



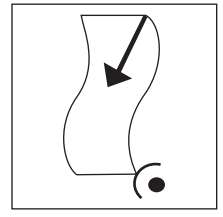
(1)



(2)




(3)



(4)


**73. Question Figure :**




**Answer Figures :**




(1)



(2)



(3)



(4)

**74.** If your friend misbehaves in front of everyone then what will you do?

- (1) I will beat him there itself.
- (2) I will breakup the friendship.
- (3) I will dishonour him amongst friends.
- (4) I will explain him properly about why he should not misbehave.

**75.** The school gives you the responsibility of the section, where you have never worked then what will you do?

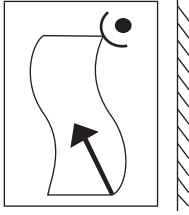
- (1) I will insist to get the work changed.
- (2) I will try to understand the method of that work and try to do it efficiently.
- (3) If my work is not changed then I will misinterpret their behaviour.
- (4) I will accept the responsibility without understanding the work.

**SPACE FOR ROUGH WORK**

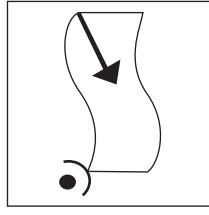
प्रश्न क्र. 72 और 73 के लिए सूचना -

निम्न प्रश्नाकृतियों के दर्पण की प्रतिमा कैसी होगी यह पर्यायी उत्तर आकृतियों में से चुनो।

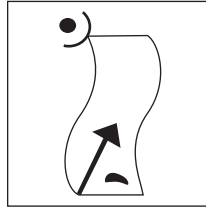
72. प्रश्नाकृति :



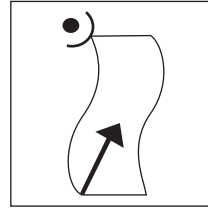
उत्तर आकृतिया :



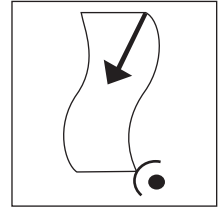
(1)



(2)




(3)



(4)

73. प्रश्नाकृति :



उत्तर आकृतिया :




(1)



(2)



(3)



(4)

74. आपके मित्र ने सबके सामने अनुचित वर्तन किया, तो आप क्या करोगे?

- (1) उसी स्थान पर उसकी पिटाई करोगे।
- (2) उससे दोस्ती तोड़ोगे।
- (3) सभी दोस्तों में उसकी बदनामी करोगे।
- (4) उसे समझाएँगे कि, अनुचित वर्तन ना करें।

75. विद्यालय द्वारा आपने कभी-भी अनुभव न लिया हो, ऐसे विभाग की जिम्मेदारी आप पर सौंपी, तो आप क्या करोगे?

- (1) काम बदलकर देने का आग्रह करेंगे।
- (2) काम की रूपरेखा समझकर वह काम अच्छा करने का प्रयास करेंगे।
- (3) काम बदलकर न देने के कारण आप अनुपस्थित रहेंगे।
- (4) काम की रूपरेखा न समझकर उसका स्वीकार करेंगे।

रफ कार्य हेतु स्थान

रफ कार्य हेतू स्थान